

1 次の問1～問7に答えなさい。

問1 アメリカの独立戦争を指揮し、初代大統領に選ばれた人物をカタカナ5字で答えなさい。

問2 1858年に、日本がアメリカなどと結んだ通商条約の中で「外国人が日本で罪をおかしても、日本は処罰できない」と決められました。このことを何といいますか。漢字4字で答えなさい。

問3 江戸時代の終わりに、土佐藩を脱藩して勝海舟の弟子となり、対立していた薩摩藩と長州藩の手を結ばせた人物を、漢字で答えなさい。

問4 徳川慶喜が政権を天皇に返したのは、西暦何年ですか。

問5 1871年に新政府の使節団が、欧米諸国を視察するため日本を出発しました。これに参加した人物を、次のア～エから1つ選び、記号で答えなさい。

ア 西郷隆盛 イ 板垣退助 ウ 福沢諭吉 エ 岩倉具視

問6 津田梅子は、7才の時に外国へわたり11年間の勉強を終えて帰国し、女性の教育に力を注ぎました。彼女が勉強に行った外国とは、どこの国ですか。次のア～エから1つ選び、記号で答えなさい。

ア ガーナ イ ドイツ ウ ロシア エ アメリカ

問7 次の文は、「五か条の御誓文」の内容のひとつである。文中（ ）の中にあてはまる語句を、次のア～エから1つ選び、記号で答えなさい。

ア 国交 イ 会議 ウ 裁判 エ 文明

政治は、広く（ ）を開いて、多くの人々が意見を述べ合ったうえで決定しよう。

2 次の問1～問5に答えなさい。

問1 1897年に朝鮮は国号を改めました。その新しい国号を、次のア～エから1つ選び、記号で答えなさい。

ア 大韓民国 イ 大韓帝国 ウ 朝鮮民主主義人民共和国 エ 李氏朝鮮

問2 次の文中（ ）の中にあてはまる語句を、次のア～エから1つ選び、記号で答えなさい。

ア 千島列島 イ ホンコン ウ ナンキン エ 台湾

日本軍は、1937年に占領した（ ）で、ほりよにした兵士など多くの人々の生命をうばいました。この事件により、日本は世界の国々から非難を受けました。

問3 第二次世界大戦で、ドイツは1941年にどこの国と戦争を始めましたか。次のア～エから1つ選び、記号で答えなさい。

ア イギリス イ フランス ウ ソ連 エ イタリア

問4 次の文中（ ）の中にあてはまる語句を、カタカナで答えなさい。

日本軍は、1941年12月8日にイギリス領の（ ）半島と、ハワイのアメリカ軍基地などを攻撃し、太平洋戦争を始めました。

問5 2011年8月に、日本の国会で首相に選ばれた人を、次のア～エから1つ選び、記号で答えなさい。

ア 野田佳彦 イ 小泉純一郎 ウ 菅 直人 エ 鳩山由紀夫

3 次のA～Dの文について、問1～問10に答えなさい。

- A 前の幕府がたおれたあと、京都に新しい幕府が開かれました。3代將軍の孫にあたる「わたし」は、祖父が建てたはなやかで貴族的な建物ではなく、質素で落ち着いた（イ）を建てました。
- B （ロ）世紀に、モンゴルは中国にせめこんで元という国をつくりました。元は、日本にも従うようにと何度も使者を送ってきました。しかし、その時幕府の政治を進めていた「わたし」は要求をはねつけました。
- C 「わたし」は天皇の政治を助ける役職につくと、天皇を中心とする政治のしくみをつくらうとして、（ハ）氏とともに改革を進めました。また、中国に使者を送って、対等な国の交わりを結ぼうとしたほか、仏教をさかんにするために、法隆寺を建てました。
- D 19才で幕府の將軍になった「わたし」は、武家諸法度に（ニ）という制度を加えました。また、キリスト教の取りしまりをいっそう強め、外国との貿易を制限しました。

問1 Aの（イ）にあてはまる語句を漢字2字で答えなさい。

問2 Aの「わたし」と同じ時期に活躍した人物で、次の水墨画をえがいた人物名を漢字で答えなさい。



問3 Bの（ロ）にあてはまる数字を答えなさい。

問4 Bの「わたし」にあてはまる人物名を漢字で答えなさい。

問5 Cの（ハ）にあてはまるものを、次のア～エから1つ選び、記号で答えなさい。

ア 平 イ 藤原 ウ 源 エ 蘇我

問6 Cの中国の国名を、次のア～エから1つ選び、記号で答えなさい。

ア 隋 イ 明 ウ 唐 エ 宋

問7 Cの法隆寺がある府県を、地図中ア～エから1つ選び、記号で答えなさい。



問8 Dの(ニ)にあてはまる語句を、漢字4字で答えなさい。

問9 Dについて、幕府と長崎の出島で貿易をおこなった国を、地図中ア～エから1つ選び、記号で答えなさい。(国境線は現在のもの)



問10 次の①～③の史料がつくられた時代は、A～Dの「わたし」がきたどの時代にあてはまるか、A～Dからそれぞれ1つずつ選び、記号で答えなさい。もしA～Dの時代にあてはまらない場合は×を答えなさい。

①

一 朝早くおきて草をかり、
 昼は田畑を耕し、夜はな
 わをない、俵たからをあみ、ゆ
 だなく仕事にはげめ。
 一 酒や茶を買って飲んで
 はならない。

②

この世をば
 わが世とぞ思う
 望月もちづきの
 欠けたることも
 なしと思えば

③

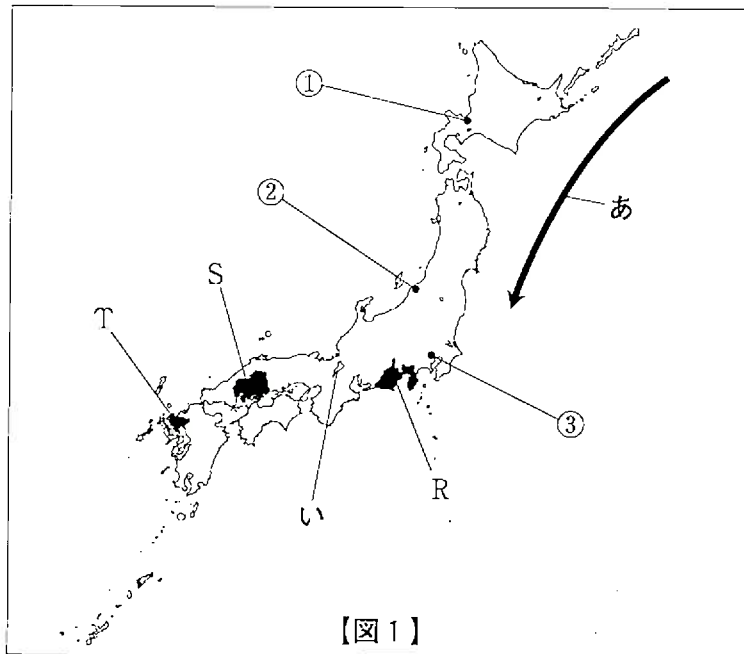
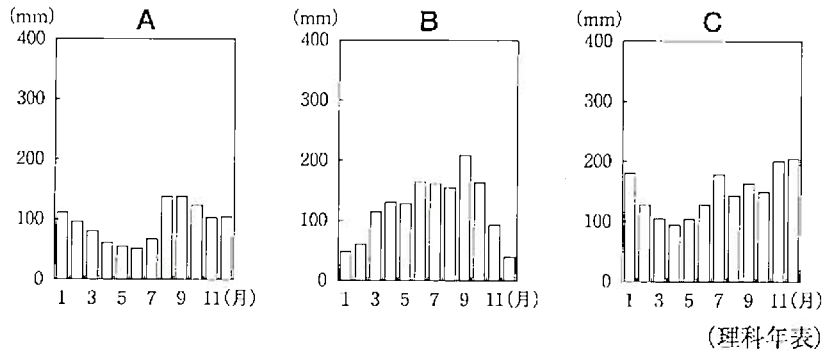
一 和をたいせつにし、争いを
 やめよ。
 一 仏教をあつくうやまえ。
 一 天皇の命令にはしたがえ。
 一 地方の役人は、
 かってに税を取り立てるな。

4 次の問1～問11に答えなさい。

問1 次の表の中で、石川県の県庁所在地と伝統工芸品をそれぞれ選び、その正しい組み合わせを次のア～シから1つ選び、記号で答えなさい。

	大津市	仙台市	名古屋市	金沢市
とこなね 常滑焼	ア	イ	ウ	エ
かがやうぜん 加賀友禅	オ	カ	キ	ク
しがらき 信楽焼	ケ	コ	サ	シ

問2 次の図A～Cは、【図1】中の①～③のいずれかの地点の月別降水量を示したものである。その正しい組み合わせを下のア～カから1つ選び、記号で答えなさい。



【図1】

	ア	イ	ウ	エ	オ	カ
①	A	A	B	B	C	C
②	B	C	A	C	A	B
③	C	B	C	A	B	A

問3 【図1】中のR～Tの各県でさかに養殖されている魚介類の正しい組み合わせを次のア～カから1つ選び、記号で答えなさい。

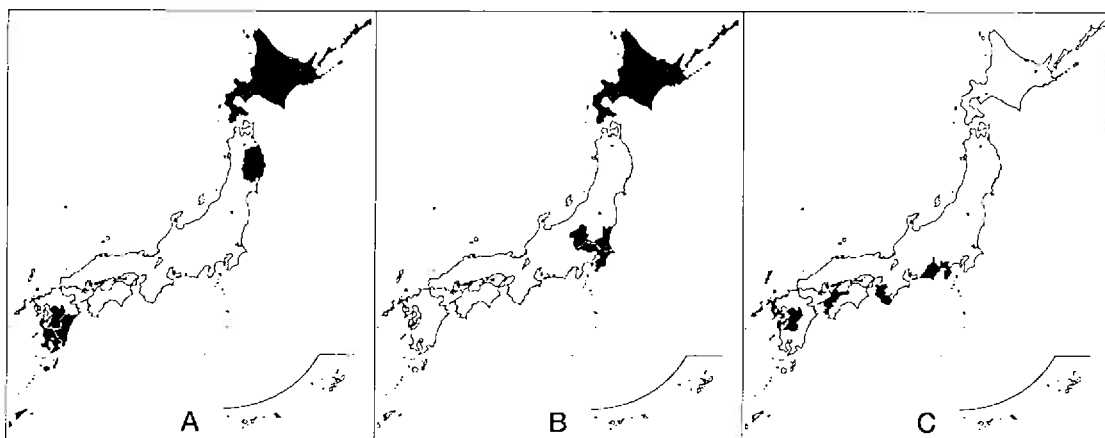
	ア	イ	ウ	エ	オ	カ
R	のり	のり	うなぎ	うなぎ	かき	かき
S	うなぎ	かき	のり	かき	のり	うなぎ
T	かき	うなぎ	かき	のり	うなぎ	のり

問4 【図1】中のあの海流の名称を、次のア～エから1つ選び、記号で答えよ。

ア リマン海流 イ 黒潮 ウ 親潮 エ 対馬海流

問5 【図1】中のいの湖は、水鳥などが集まる世界的に重要な湿地を守るための条約に登録されている場所の一つである。この条約を何というか、カタカナで答えなさい。

問6 次の図A～Cは、日本のねぎ・みかん・肉用牛の生産量（または頭数）上位5道県（2008年）を示したものである。その正しい組み合わせを次のア～カから1つ選び、記号で答えなさい。



(日本国勢図会)

	ア	イ	ウ	エ	オ	カ
ねぎ	A	A	B	B	C	C
みかん	B	C	A	C	A	B
肉用牛	C	B	C	A	B	A

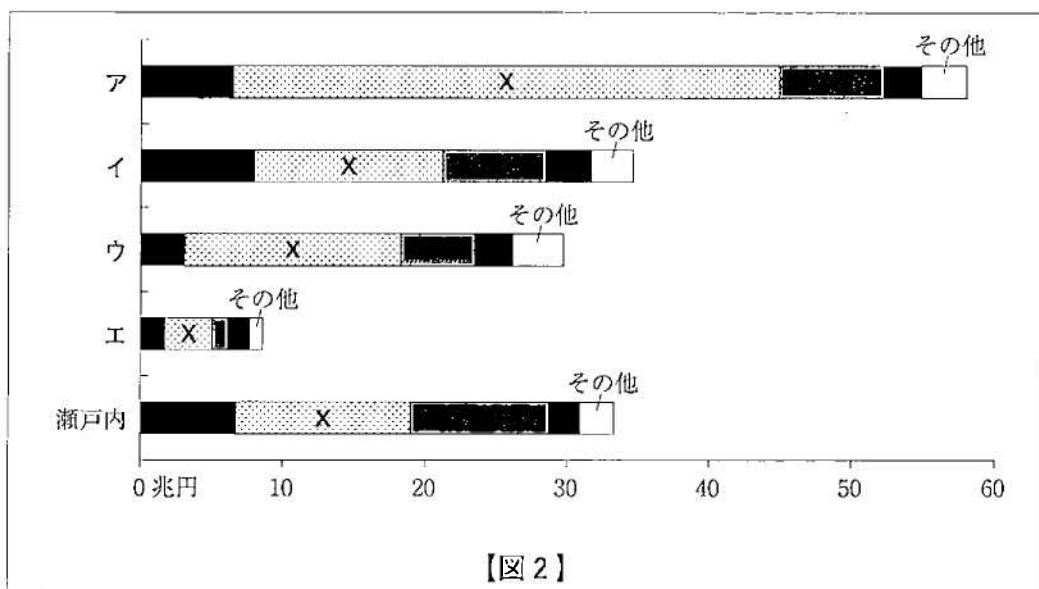
問7 次の表1・表2は、日本が輸入している天然ガスと石炭の輸入相手国上位5カ国(2009年)を示したものである。表1にあてはまるものと、表中のAにあてはまる国名の正しい組み合わせを次のア～カから1つ選び、記号で答えなさい。

表1 (%)			表2 (%)		
①	インドネシア	20.1	①	A	63.6
②	マレーシア	19.6	②	インドネシア	19.4
③	A	18.5	③	カナダ	5.7
④	カタール	12.0	④	ロシア	5.5
⑤	ブルネイ	9.4	⑤	中国	3.9

(データブックオブザワールド)

	ア	イ	ウ	エ	オ	カ
表1	天然ガス	天然ガス	天然ガス	石炭	石炭	石炭
A	サウジアラビア	アメリカ	オーストラリア	サウジアラビア	アメリカ	オーストラリア

問8 【図2】は、日本の5つの工業地帯・工業地域(京浜・中京・阪神・瀬戸内・北九州)の工業生産額(2008年)を示したものである。



【図2】

(データブックオブザワールド)

- 中京工業地帯にあてはまるものを図中のア～エから1つ選び、記号で答えなさい。
- 図中のXにあてはまる工業の種類を次のア～エから1つ選び、記号で答えなさい。

ア 食料品 イ 化学 ウ 機械 エ 金属

問9 次の文章のうち、下線部が正しいものを次のア～エから1つ選び、記号で答えなさい。

- ア 熊本県・鹿児島県でおこった水俣病は、メチル水銀が原因であった。
- イ 新潟県でおこった新潟水俣病は、信濃川下流域でおこった。
- ウ 富山県でおこった四日市ぜんそくは、亜硫酸ガスが原因であった。
- エ 1967年には、環境基本法がつくられた。

問10 沖縄県の人々のくらしを説明した次の文章のうち、下線部が誤っているものを次のア～エから1つ選び、記号で答えなさい。

- ア 温暖な気候を利用して、1年に2回田植えをするところもある。
- イ 伝統的な家では、台風風の飛ばされないようにしっくいで屋根がわらをかためる。
- ウ 水不足にそなえて、屋根の上にタンクを置いた家も見られる。
- エ 伝統的な家では、夏の暑さを防ぐため入り口や窓はせまくつくられている。

問11 次の文章のうち、下線部が誤っているものを次のア～エから1つ選び、記号で答えなさい。

- ア 京都府では、昔から、清水焼と呼ばれる焼き物の生産がさかんである。
- イ 岡山県では、昔から、備前焼と呼ばれる焼き物の生産がさかんである。
- ウ 札幌市では、日本で一番低い気温（れい下41度）を記録したことがある。
- エ 熊谷市と多治見市では、日本で一番高い気温（40.9度）を記録したことがある。

受験番号

2012(平成24)年度

社 会 解 答 用 紙

【注意】
このらんには何も
記入しないこと

1	問1	問2	問3

問4	問5	問6	問7
年			

2	問1	問2	問3	問4	問5
				半島	

3	問1	問2	問3
			世紀

問4	問5	問6	問7

問8	問9	問10		
		①	②	③

4	問1	問2	問3	問4	問5
					条約

問6	問7	問8	問9	問10	問11
		(1)	(2)		

--

--

--

--

総計	
----	--